

# SCHOOL-SCOUT.DE

Unterrichtsmaterialien in digitaler und in gedruckter Form

## Auszug aus:

*Mit Geld rechnen bis 100 Euro*

Das komplette Material finden Sie hier:

[School-Scout.de](http://School-Scout.de)
















# Inhaltsverzeichnis

---

<b>Einleitung</b> .....	4	Was kostet es? (Ct) .....	34
		Was ist mehr? I .....	35
<b>Mit Geld rechnen: bis 10 € und 10 Ct</b>		Was ist mehr? II .....	36
Euro und Cent bis 10 .....	5	Immer 15 € .....	37
€ oder Ct? .....	6	Immer 15 Ct .....	38
Wie viel € sind es? I .....	7	Immer 20 € .....	39
Wie viel € sind es? II .....	8	Immer 20 Ct .....	40
Wie viel € sind es? III .....	9	Wie viel €? I .....	41
Wie viel Ct sind es? I .....	10	Wie viel €? II .....	42
Wie viel Ct sind es? II .....	11	Wie viel €? III .....	43
Wie viel Ct sind es? III .....	12		
Wie viel €? Wie viel Ct? I .....	13	<b>Mit Geld rechnen: bis 100 € und Ct</b>	
Wie viel €? Wie viel Ct? II .....	14	Wie viel € sind es? .....	44
Was kostet es? I .....	15	Wie viel Ct sind es? .....	45
Was kostet es? II .....	16	Wie viel € sind es? .....	46
Was ist mehr? I .....	17	Wie viel Ct sind es? .....	47
Was ist mehr? II .....	18	Wie viel € sind es? .....	48
Immer 5 € .....	19	Wie viel Ct sind es? .....	49
Immer 5 Ct .....	20	Was kostet es? (€) .....	50
Immer 10 € I .....	21	Was kostet es? (Ct) .....	51
Immer 10 € II .....	22	Was kostet es? (€) .....	52
Immer 10 € III .....	23	Was kostet es? (Ct) .....	53
Immer 10 Ct I .....	24	Was ist mehr? I .....	54
Immer 10 Ct II .....	25	Was ist mehr? II .....	55
		Immer 50 € .....	56
		Immer 50 Ct .....	57
		Immer 100 € .....	58
<b>Mit Geld rechnen: bis 20 € und Ct</b>		Plus rechnen mit € .....	61
Wie viel € sind es? I .....	26	Immer 1 € = 100 Ct .....	62
Wie viel € sind es? II .....	27	Wie viel €? Wie viel Ct ? I .....	64
Wie viel Ct sind es? .....	28	Wie viel €? Wie viel Ct ? II .....	65
Wie viel € sind es? .....	29	Immer 1 € = 100 Ct .....	66
Wie viel Ct sind es? .....	30	Wie viel €? Wie viel Ct ? III .....	67
Wie viel €? Wie viel Ct? I .....	31	Wie viel €? Wie viel Ct? IV .....	68
Wie viel €? Wie viel Ct? II .....	32	Was kostet das? .....	69
Was kostet es? (€) .....	33		

















 Schreibe.

Euro €	Cent Ct
 <p style="text-align: center;">_ 1 _ € .....</p>	 <p style="text-align: center;">_ 1 _ Ct .....</p>
 <p style="text-align: center;">_____ .....</p>	 <p style="text-align: center;">_____ .....</p>
 <p style="text-align: center;">_____ .....</p>	 <p style="text-align: center;">_____ .....</p>
 <p style="text-align: center;">_____ .....</p>	 <p style="text-align: center;">_____ .....</p>
 <p style="text-align: center;">_____ .....</p>	 <p style="text-align: center;">_____ .....</p>
 <p style="text-align: center;">_____ .....</p>	 <p style="text-align: center;">_____ .....</p>
 <p style="text-align: center;">_____ .....</p>	













Zähle und schreibe.


 <p><u>10</u> Ct .....</p>	 <p>_____ € .....</p>
 <p>_____ .....</p>	 <p>_____ .....</p>
 <p>_____ .....</p>	 <p>_____ .....</p>
 <p>_____ .....</p>	 <p>_____ .....</p>
 <p>_____ .....</p>	 <p>_____ .....</p>
 <p>_____ .....</p>	 <p>_____ .....</p>
 <p>_____ .....</p>	 <p>_____ .....</p>

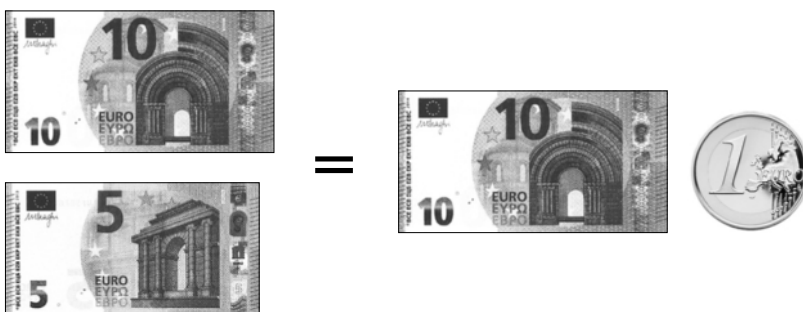





Schreibe.


 _____ € .....	 _____ € .....
 _____ .....	 _____ .....
 _____ .....	 _____ .....
 _____ .....	 _____ .....
 _____ .....	 _____ .....

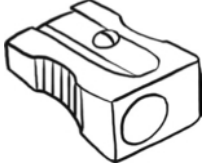


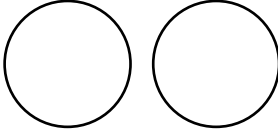








 Male das fehlende Geld.






 Male das Geld.

 <p>20 Ct</p>	
 <p>30 Ct</p>	
 <p>50 Ct</p>	
 <p>55 Ct</p>	
 <p>60 Ct</p>	
 <p>_____ Ct</p>	
 <p>70 Ct</p>	
 <p>25 Ct</p>	



 Rechne und schreibe.


$10 \text{ €} + 1 \text{ €} =$	$10 \text{ €} + 10 \text{ €} =$
$20 \text{ €} + 2 \text{ €} =$	$20 \text{ €} + 10 \text{ €} =$
$30 \text{ €} + 3 \text{ €} =$	$30 \text{ €} + 20 \text{ €} =$
$35 \text{ €} + 2 \text{ €} =$	$40 \text{ €} + 20 \text{ €} =$
$48 \text{ €} + 2 \text{ €} =$	$50 \text{ €} + 20 \text{ €} =$
$49 \text{ €} + 2 \text{ €} =$	$50 \text{ €} + 30 \text{ €} =$



$54 \text{ €} + 2 \text{ €} =$	$60 \text{ €} + 20 \text{ €} =$
$59 \text{ €} + 2 \text{ €} =$	$70 \text{ €} + 10 \text{ €} =$
$68 \text{ €} + 2 \text{ €} =$	$70 \text{ €} + 20 \text{ €} =$
$88 \text{ €} + 2 \text{ €} =$	$80 \text{ €} + 20 \text{ €} =$
$79 \text{ €} + 2 \text{ €} =$	$90 \text{ €} + 10 \text{ €} =$





 Male das Geld.

 5,10 €	<input type="text" value="5"/> <input type="text"/>
 10,20 €	<input type="text" value="10"/> <input type="text"/> <input type="text"/>
 50,40 €	<input type="text"/> <input type="text"/> <input type="text"/>
 100 €	<input type="text"/>
 1,10 €	<input type="text"/> <input type="text"/>
 50,50 €	<input type="text"/> <input type="text"/>

# SCHOOL-SCOUT.DE

Unterrichtsmaterialien in digitaler und in gedruckter Form

**Auszug aus:**

*Mit Geld rechnen bis 100 Euro*

Das komplette Material finden Sie hier:

[School-Scout.de](http://School-Scout.de)

