

SCHOOL-SCOUT.DE



Unterrichtsmaterialien in digitaler und in gedruckter Form

Auszug aus:

Rechenspurgeschichten Klasse 3

Das komplette Material finden Sie hier:

[School-Scout.de](https://www.school-scout.de)



© Copyright school-scout.de / e-learning-academy AG – Urheberrechtshinweis

Alle Inhalte dieser Material-Vorschau sind urheberrechtlich geschützt. Das Urheberrecht liegt, soweit nicht ausdrücklich anders gekennzeichnet, bei school-scout.de / e-learning-academy AG. Wer diese Vorschauseiten unerlaubt kopiert oder verbreitet, macht sich gem. §§ 106 ff UrhG strafbar.

Didaktisch-methodischer Kommentar	4
Hilfskarten für die Grundrechenarten	6
Anleitung zum Lösen der Rechenspurgeschichten	9
Im Zoo – Wimmelbild	10
Im Zoo 1	11
Wiederholung: Addition/Subtraktion bis 100	
Im Zoo 2	15
Multiplikation/Division	
Im Supermarkt – Wimmelbild	19
Im Supermarkt 1	20
Addition/Subtraktion zweistelliger Zahlen ohne Hunderterübergang	
Im Supermarkt 2	24
Rechnen mit Geld	
Auf dem Campingplatz – Wimmelbild	28
Auf dem Campingplatz 1	29
Addition/Subtraktion dreistelliger Zahlen mit Hunderterübergang	
Auf dem Campingplatz 2	33
Rechnen mit Längen	
Im Freibad – Wimmelbild	37
Im Freibad 1	38
Multiplikation und schriftliche Addition	
Im Freibad 2	42
Division und schriftliche Subtraktion	
Im Wald – Wimmelbild	46
Im Wald 1	47
Rechnen mit Gewichten	
Im Wald 2	51
Rechnen mit Uhrzeiten	
In der Stadt – Wimmelbild	55
In der Stadt 1	56
Schriftliche Addition und Subtraktion	
In der Stadt 2	60
Halbschriftliche Multiplikation und Division	



Die Lösungen stehen Ihnen im Download zur Verfügung.

 **Hilfskarte** 

— minus rechnen / subtrahieren → abziehen


Es gibt eine Menge, von der ich etwas **abziehe**.

Ich habe 7 Äpfel, 2 davon esse ich auf.

Frage: Wie viele Äpfel habe ich noch?

Rechnung: $7 - 2 = 5$

Antwort: Ich habe jetzt nur noch 5 Äpfel.



Signalwörter: etwas wird weniger, kürzer, kleiner, leichter, günstiger, wegnehmen

 **Hilfskarte** 

— minus rechnen / subtrahieren → Unterschied

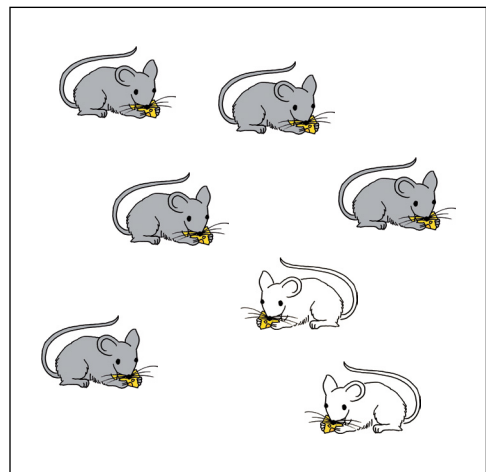
Es gibt 2 Mengen und ich berechne den **Unterschied**.

Adam hat 5 graue Mäuse und 2 weiße Mäuse.

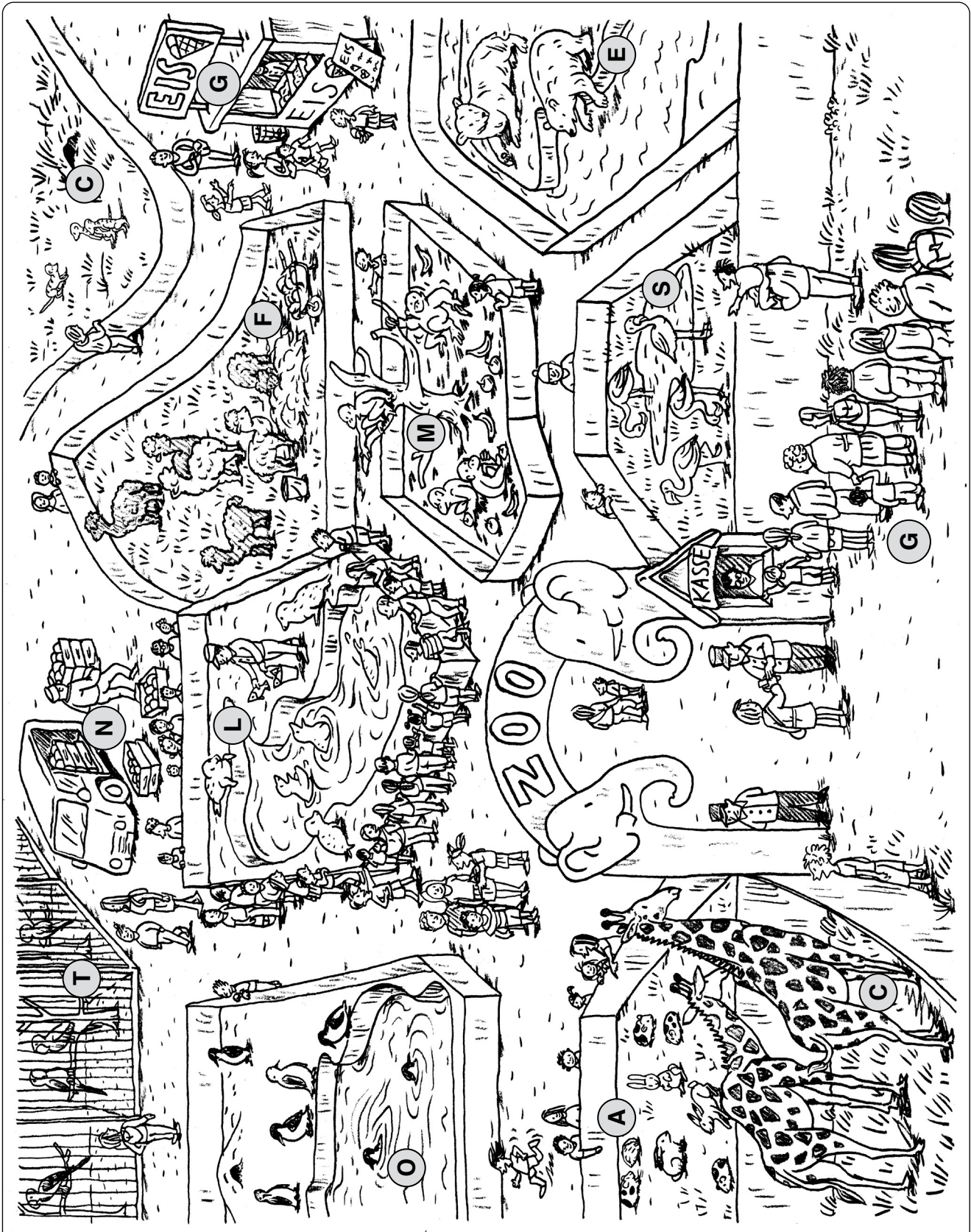
Frage: Wie viele graue Mäuse hat er mehr als weiße?

Rechnung: $5 - 2 = 3$


Antwort: Adam hat 3 graue Mäuse mehr als weiße Mäuse.



Signalwörter: wie viel mehr, weniger, höher, niedriger, weiter, näher, teurer, günstiger als etwas



I	H	F	O	I	U	T	I	N	R	L	A	H	L	J	S	R	F	N	R	M	T	S	A
24	46	34	45	25	8	30	6	100	28	36	2	13	15	43	3	56	41	85	21	47	40	12	4



S	R	N	E	N	H	I	R	H	E	F	N	I	A	U	B	H	N	A	U	I	B	S	H	W
36	40	91	696	37	381	843	20	4	721	341	125	3	413	27	7	324	71	289	21	893	8	24	6	2

SCHOOL-SCOUT.DE



Unterrichtsmaterialien in digitaler und in gedruckter Form

Auszug aus:

Rechenspurgeschichten Klasse 3

Das komplette Material finden Sie hier:

[School-Scout.de](https://www.school-scout.de)



© Copyright school-scout.de / e-learning-academy AG – Urheberrechtshinweis

Alle Inhalte dieser Material-Vorschau sind urheberrechtlich geschützt. Das Urheberrecht liegt, soweit nicht ausdrücklich anders gekennzeichnet, bei school-scout.de / e-learning-academy AG. Wer diese Vorschauseiten unerlaubt kopiert oder verbreitet, macht sich gem. §§ 106 ff UrhG strafbar.